

**NAPOLÉON
BONAPARTE
OU
NAPOLÉON 1^{er} ?**



SUDOKU

6	9	5				4	8	3
				4				
	1		5		3		2	
1	5	8				9	7	6
	3	7	6		9	8	1	
	6		1		7		3	
5	4			7			6	9
3	8						4	2
			4	6	2			

**Date de la fin du règne de l'empire français
de Napoléon 1^{er} : _ _ _ _**

CHARADE

Mon premier est le père de Jésus.

Mon second se trouve entre H et J.

Mon troisième introduit la négation.

Mon quatrième est plus petit que 3 mais plus grand que 1.

Mon cinquième est le contraire de laid.

Mon sixième garantit la sécurité d'un grimpeur.

Mon tout est le nom complet de la femme de Napoléon.



QUESTION

Pourquoi Napoléon prenait-il toujours cette posture ?


MOTS MÊLÉS

V	A	R	C	D	E	T	R	I	O	M	P	H	E
A	L	I	V	E	E	T	R	A	P	A	N	O	B
J	U	N	A	P	C	O	D	E	C	I	V	I	L
A	S	A	I	N	T	E	H	E	L	E	N	E	E
C	N	A	P	O	L	E	O	N	A	O	L	E	D
C	O	L	O	N	N	E	V	E	N	D	O	M	E
I	C	A	D	A	S	T	R	E	E	E	O	P	L
O	N	A	U	S	T	E	R	L	I	T	Z	I	I
O	C	A	M	P	A	G	N	E	S	L	A	R	V
L	E	S	R	U	O	J	T	N	E	C	A	E	C
R	Z	A	F	R	A	N	C	E	G	Y	P	T	E
E	E	S	C	L	A	V	A	G	E	B	E	L	I
T	R	A	F	A	L	G	A	R	P	A	R	I	S
A	I	G	L	E	L	R	U	E	R	E	P	M	E
W	A	G	R	A	M	G	U	E	R	R	E	S	E


Aigle
Ajaccio
Arc de Triomphe
Austerlitz
Bonaparte
Cadastre
Campagnes
Cent jours
Code civil

Colonne Vendôme
Consul
Egypte
Empereur
Empire
Esclavage
France
Guerres


Iena
Île d'Elbe
Italie
Napoléon
Paris
Sainte-Hélène
Trafalgar
Wagram
Waterloo




L'IMAGE DE TROP




A



B



C



D



Trouvez la vignette qui ne correspond pas à l'image.

UN PEU DE GÉOGRAPHIE



Placez ces lieux emblématiques pour Napoléon sur la carte et trouvez celui qui n'y apparaît pas !

- | | |
|-------------------------|--------------------------------------|
| 1. Ajaccio | 6. Italie |
| 2. Wagram | 7. Waterloo |
| 3. Marseille | 8. Île d'Elbe |
| 4. Malmaison | 9. Grand Trianon (Versailles) |
| 5. Sainte-Hélène | 10. Iéna |

QUIZZ

En quelle année a été peint
« Le sacre de Napoléon » par
Jacques-Louis David ?

- A 1804
- R 1807
- M 1815

Quel poste occupe Napoléon
à partir du 18 brumaire
an VIII (9 novembre 1799)

- P Empereur
- N Roi
- U Premier consul

Qui a peint « Napoléon
1^{er} en costume de Sacre » ?

- S Baron François Gérard
- E Jacques-Louis David
- A Léonard de Vinci

Quel était son vrai nom de
naissance ?

- B Napoléon Premier
- T Napoleone Buonaparte
- S Napoleone Beauharnais

Qui était sa seconde femme?

- E Marie-Louise
d'Autriche
- I Marie-Antoinette
- K Sissi l'impératrice

Quelles sont les deux plus
grandes campagnes
Napoléoniennes ?

- R Égypte et Italie
- Z Espagne et France
- I Chine et Australie

Comme s'appelle la période de
retour de Napoléon après son
premier exil ?

- Z Retour vers le futur
- L Les cent-jours
- I L'empire n°2

Qui a succédé à Napoléon
1^{er} ?

- T Napoléon III
- I Louis XVIII
- B Louis-Philippe

Quel monument Parisien a-t-il
construit ?

- Q Tour Eiffel
- D Château de Versailles
- T Colonne Vendôme

Où se trouve sa sépulture
actuelle ?

- Z Invalides
- V Sainte-Hélène
- U Père Lachaise

Bataille surnommée « Bataille des trois empereurs » :
Bataille d'_____

DESSIN

Nom : _____

Prénom : _____

Âge : _____ **Mail :** _____@_____

Date de la fin du règne de Napoléon : _____

Mot de la charade : _____

Posture de Napoléon : _____

Mots mêlés : _____

Vignette de trop : _____

Lieu qui n'est pas sur la carte : _____

Nom de la « bataille des trois empereurs » :

bataille d' _____

Intrus de la vitrine : _____